

3. Traza la media proporcional a los segmentos (I)




4. Traza la media proporcional a los segmentos (II)




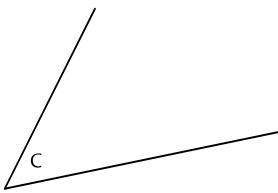

3. Dibuja 2 arcos capaces: para 75° y 120°



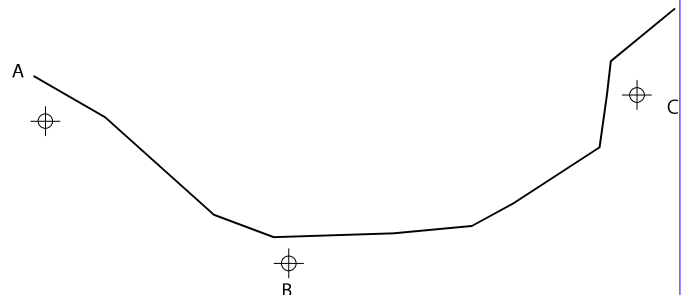
4. Dibuja un triángulo isósceles ABC conociendo el lado desigual y el ángulo opuesto (75°)



3. Dibuja un triángulo ABC conociendo la base AB otro lado BC y el ángulo opuesto a la base en C



4. Un capitán de barco ve el segmento AB con una abertura de 75° y el BC con 60° . ¿Donde se halla el barco?



NOMBRE:

ejerc: 2