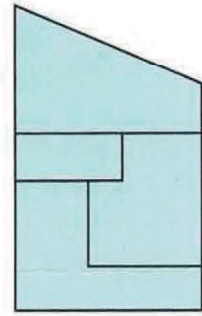
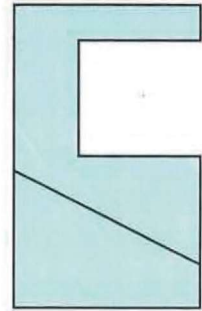
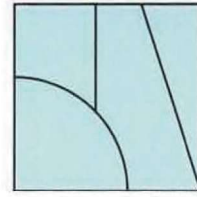

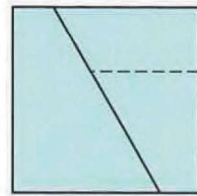


Dibujar, con líneas ocultas si las hubiera, la planta de la pieza, limitada por planos, de la que se conocen el alzado y el perfil.

Dibujar, con líneas ocultas si las hubiera, el perfil derecho de la pieza, de la que se conocen el alzado y la planta.



⊗ Dibujar, con líneas ocultas si las hubiera, el alzado de la pieza, limitada por planos, de la que se conocen la planta y el perfil.

⊗ Dibujar, con líneas ocultas si las hubiera, el alzado de la pieza, de la que se conocen la planta y el perfil.