

## DIBUJO TÉCNICO

Tiempo máximo de la prueba: 1h 30 min

### INSTRUCCIONES PARA REALIZAR EL EXAMEN

El examen consta de **3 bloques de ejercicios**.

El **primer bloque** tiene una valoración de **6 puntos**. Consta de 6 ejercicios, de los cuales el estudiante ha de **elegir 3**, con un valor de **2 puntos cada uno** de ellos.

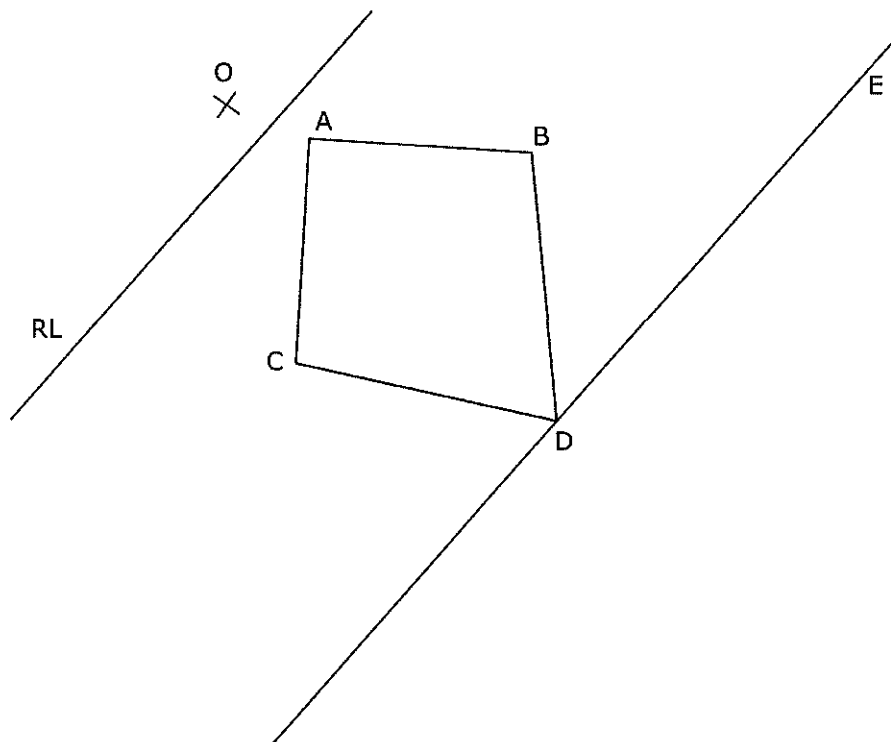
El **segundo bloque** tiene una valoración de **2 puntos**. Consta de 2 ejercicios, de los cuales el estudiante ha de **elegir 1**, con un valor de **2 puntos cada uno** de ellos.

El **tercer bloque** tiene una valoración de **2 puntos**. Consta de 2 ejercicios, de los cuales el estudiante ha de **elegir 1**, con un valor de **2 puntos cada uno** de ellos.

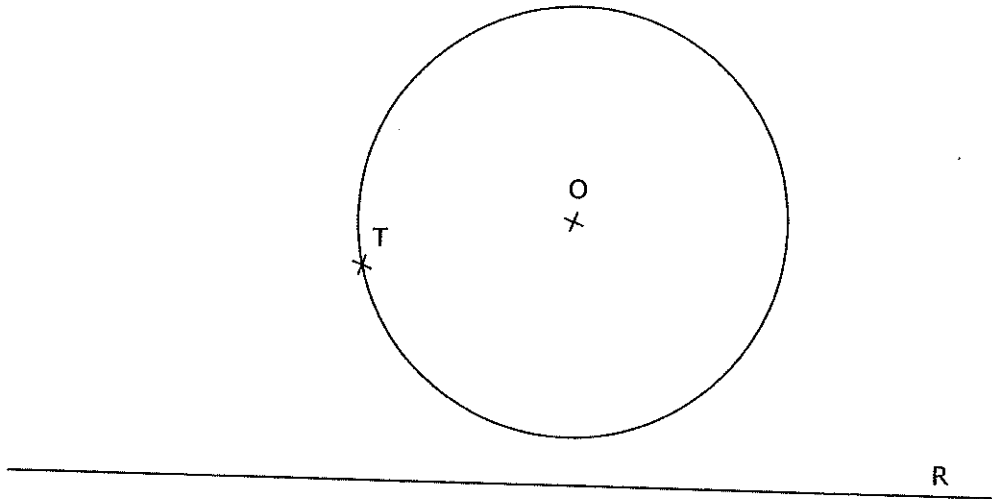
**Es obligatorio realizar ejercicios de cada bloque para llegar a la puntuación máxima del examen (10).**

**Observación importante:** en ningún caso se corregirá un número mayor de ejercicios de los indicados para cada bloque. Para la corrección se seguirá el orden en el que los ejercicios aparezcan desarrollados por el estudiante. Solo si el estudiante ha tachado alguno de ellos, se entenderá que ese ejercicio no debe ser corregido. En ese caso se le corregiría aquel que ocupase el correspondiente y lógico lugar del tachado, siempre y cuando pertenezca a su misma agrupación y en el orden de respuesta.

**BLOQUE 1. EJERCICIO 1. - HOMOLOGÍA.** Dibuja la figura homóloga de la dada, conocidos el eje de homología (E), el centro de homología (O) y la recta límite (RL). El vértice D de la figura dada está en el eje de homología.

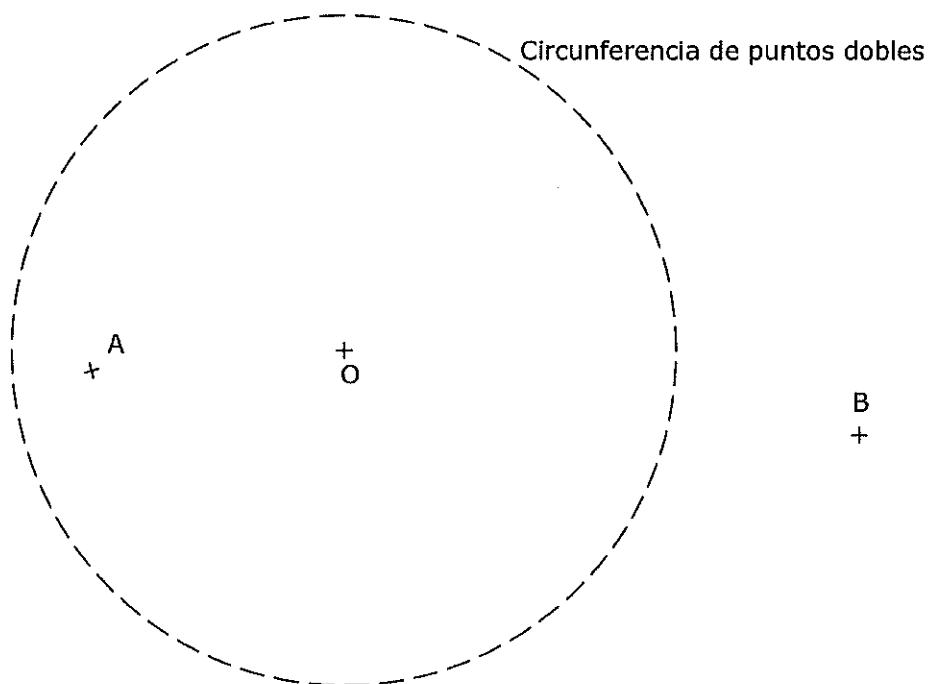


BLOQUE 1. EJERCICIO 2. - TANGENCIAS.- Dibuja las circunferencias tangentes a la recta R y a la circunferencia de centro O, siendo el punto T de la circunferencia el punto de tangencia en la misma. Indica CLARAMENTE tanto los puntos de tangencia como los centros de las circunferencias solución.

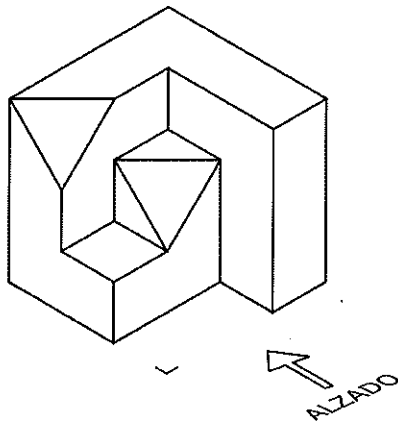


Puntuación máxima 2

BLOQUE 1. EJERCICIO 3. - INVERSIÓN. Conocidos el centro de inversión, O, y la circunferencia de puntos dobles, determina los puntos inversos de los dados, A y B.

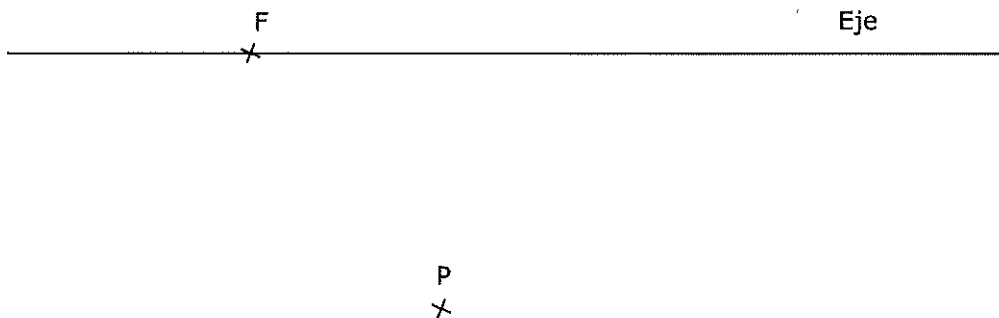


BLOQUE 1. EJERCICIO 4. - VISTAS. Dibuja a mano alzada las vistas (alzado, planta y perfil) de la pieza representada.



Puntuación máxima 2

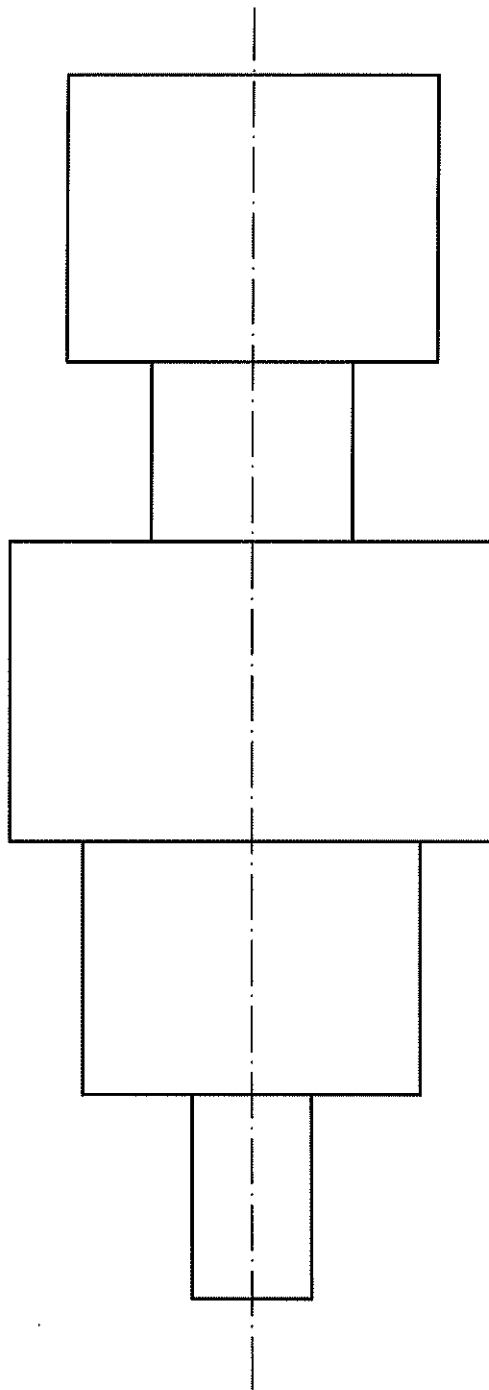
BLOQUE 1. EJERCICIO 5. - PARÁBOLA. Dibuja una parábola de la que se conoce su eje, el foco (F) y un punto de la misma (P). Emplea al menos seis puntos para el trazado de la parábola.



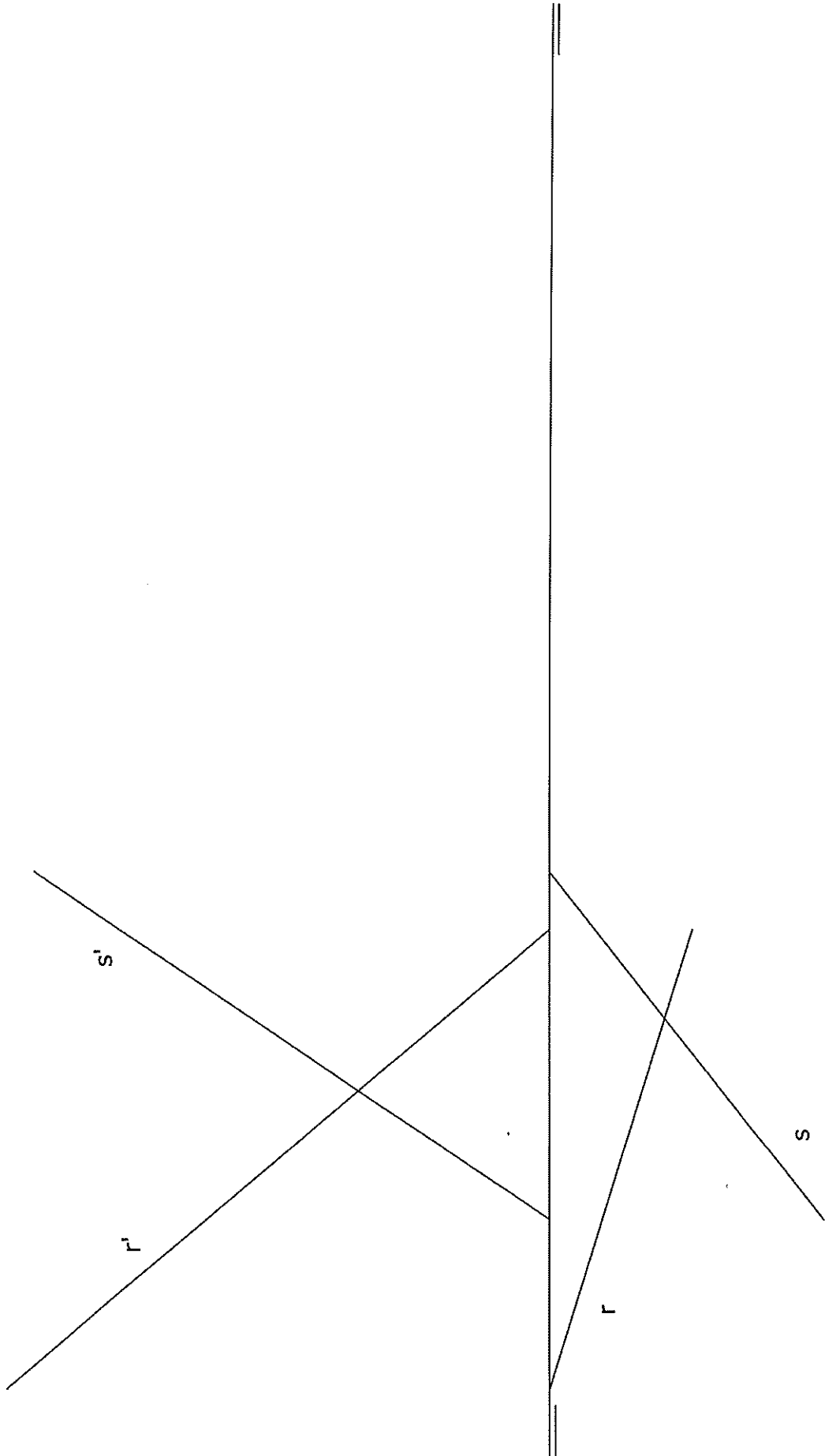
Puntuación máxima 2

El examen se realizará a lápiz. Se podrá utilizar regla graduada, escuadra, cartabón, goma de borrar y compás. No está permitido el uso de plantillas y calculadora.

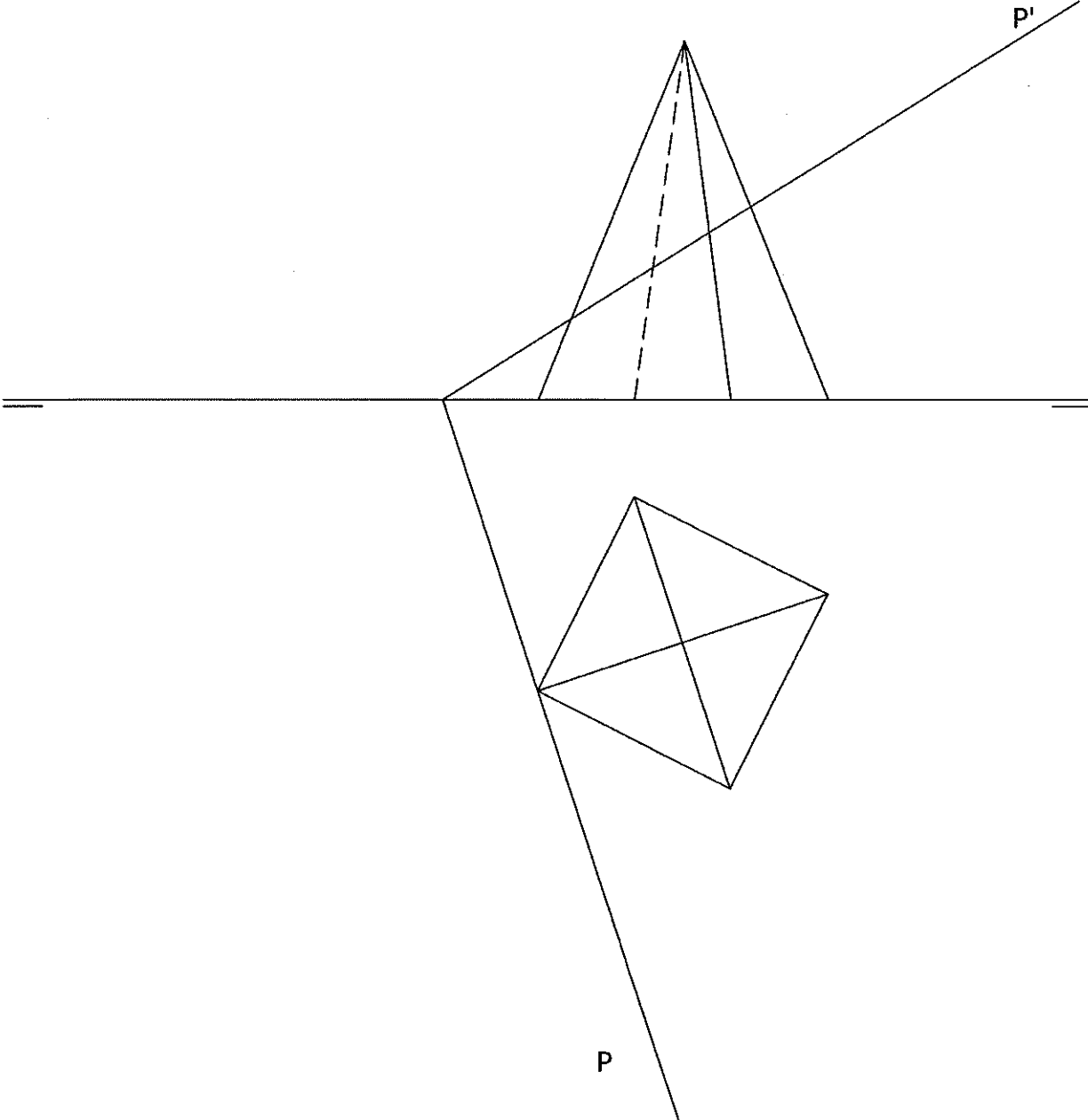
BLOQUE 1. EJERCICIO 6. - ACOTACIÓN. Acota la pieza de revolución según normas UNE.



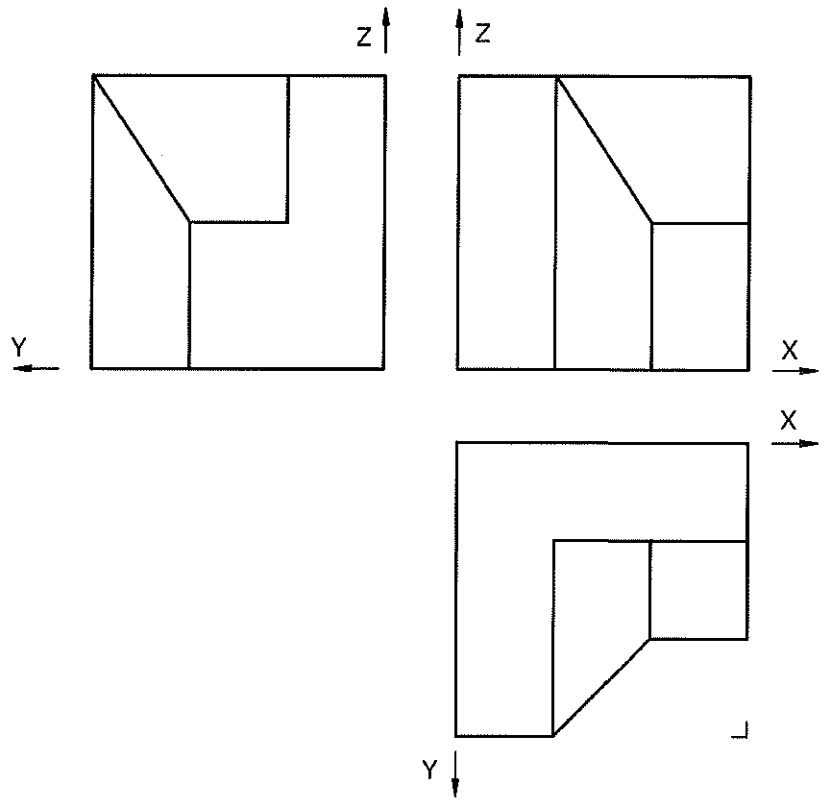
BLOQUE 2. EJERCICIO 1. - DIÉDRICO. Dadas las rectas R y S por sus proyecciones diédricas, hallar las trazas del plano P que contenga a la recta R y sea paralelo a la recta S.



BLOQUE 2. EJERCICIO 2. - DIÉDRICO. Dibuja la sección que produce el plano P sobre la pirámide de base cuadrada dada. Dibuja la verdadera magnitud de la sección.



BLOQUE 3. EJERCICIO 1. - ISOMÉTRICO. Representa en PERSPECTIVA ISOMETRICA, a escala 3:2, la figura correspondiente a las proyecciones. Calcula gráficamente y aplica en la representación los coeficientes de reducción.



BLOQUE 3. EJERCICIO 2. - ISOMÉTRICO. Representa en PERSPECTIVA ISOMETRICA, a escala 3:2, la figura correspondiente a las proyecciones dadas. Calcula gráficamente y aplica en la representación los coeficientes de reducción.

